

國民小學教師學科知能評量
範例試題

科目：社會領域

一、選擇題（請以黑色 2B 鉛筆於答案卡上作答，單選題）

1. 下面是四位同學在課堂中進行十三行文化的報告摘要，哪位同學的判斷有誤？

甲：從遺址中出土的煉鐵遺跡可知：十三行文化已進入金屬器時代

乙：從村落遺址中的「柱洞群」痕跡推測：此柱洞是為了防禦敵人攻擊

丙：從遺址中發現大量的瓷器與中國古錢幣可知：其與中國彼此存在著貿易行為

丁：依地緣關係判斷，十三行文化的後裔極可能為臺北盆地的凱達格蘭族

- (A) 甲
- (B) 乙
- (C) 丙
- (D) 丁

2. 雍正 5 年（1727），閩浙總督對雍正皇帝上了一道奏摺：「番人焚殺一節，此事情節中有數種：一則開墾之民侵入番界及抽籐吊鹿，故為番人所殺；一則番社俱有通事，通事刻剝，番人憤怨之極，遂肆殺害，波及鄰住之人；一則社番殺人數次，遂自恃強梁，頻行此事，殺人取首，誇耀逞雄。」為了解決此一衝突，清廷採取什麼政策因應？

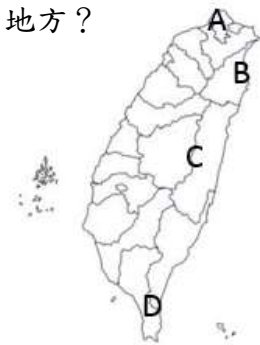
- (A) 清查番界，並規定漢人不得越界，違者受罰，採取種族隔離的番界政策
- (B) 調整地方行政區域，新設置彰化縣與淡水廳，提升官府管理地方的效能
- (C) 設立屯田制，寓兵於農，一旦有事即有足夠兵力捍衛地方安全
- (D) 在民間推行保甲制度，透過總甲的號召與領導，強化民間防衛武力

3. 一名男子十多年沒繳舊機車燃料費，但依法律規定，車主積欠燃料費，如經催繳仍未能完成送達，一旦屆滿 5 年時限，主管機關不得再行催繳。上述強調法律有何重要原則？

- (A) 罪刑法定原則
- (B) 誠實信用原則
- (C) 不告不理原則
- (D) 時效消滅原則

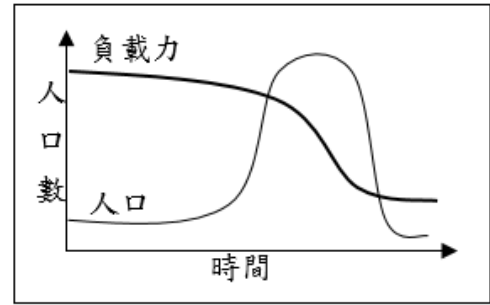
4. 下圖為臺灣地圖，請問大屯火山區較接近地圖中的哪個地方？

- (A) A
- (B) B
- (C) C
- (D) D



5. 下圖為某國家人口成長與環境負載力的資料，請問下列描述何者最有可能符合當地的情況？

- (A) 以高科技工業為主的地方
- (B) 持續積極發展農業科技的國家
- (C) 不受外界干擾的穩定部落社會
- (D) 過度砍伐森林，生態環境惡化



6. 小華在求職網上找到三份工作機會，甲工作月薪 40000 元，乙工作月薪 45000 元，丙工作月薪 35000 元，如果小華選擇乙工作，放棄甲、丙兩份工作，請問小華的機會成本是多少錢？

- (A) 40000 元
- (B) 75000 元
- (C) 35000 元
- (D) 30000 元

7. 對於全球化所造成的轉變，下列何者的觀點是採取功能論的角度？

- (A) 對全球化競爭下淘汰的弱勢族群而言，享受便捷的國際旅遊是一項奢侈的想法
- (B) 為了壓低生產成本使得代工國家的環境被破壞
- (C) 全球化使消費者享受物美價廉的商品及服務
- (D) 商品一體化是全球化的一大特徵，相對的商品便沒有獨特性

8. 外部效果指的是在經濟體系內，個體的經濟行為(包括生產和消費行為)將會對其他個體所產生的影響。請問下列哪一個選項不屬於「外部效果」？

- (A) 投資客一窩蜂前往桃園投資房地產
- (B) 隔壁的食品罐頭工廠排放汙水
- (C) 上網訂購年貨會使得實體通路商店受到影響
- (D) 在空無一人的房間裡利用耳機聽音樂

9.下表為 1870~1895 年間臺灣海關報告中，各項商品出口值所佔該年度出口總值的百分率統計表。請問：代號甲是哪一種商品？

項目單位 年代	商品甲		商品乙		商品丙		商品丁	
	出口值 (海關兩)	佔出口總值 比率%	出口值 (海關兩)	佔出口總值 比率%	出口值 (海關兩)	佔出口總值 比率%	出口值 (海關兩)	佔出口總值 比率%
1870	1081339	65.32	103189	6.23	177403	10.72	10258	0.62
1875	1040902	57.34	33949	1.87	620067	34.16	52009	2.87
1880	2155058	44.21	100745	2.07	2156373	44.24	45103	0.93
1885	955987	25.03	28	0.00	2711803	70.99	13961	0.37
1890	1754638	33.38	108713	2.07	3083879	58.67	80026	1.52
1895	1244607	36.35	418683	12.23	1552798	45.35	1361	0.04

- (A) 茶葉
- (B) 樟腦
- (C) 蔗糖
- (D) 煤

10.關於鄭芝龍的生平事蹟中，下列敘述何者有誤？

- (A) 早年隨舅父經商，往來澳門與日本，曾任荷蘭東印度公司通譯，西方文獻常以「國姓 Koxinga」稱之
- (B) 1624 年與海盜顏思齊合夥，以臺灣為根據地，劫掠海上船隻，橫行中國東南沿海
- (C) 1628 年接受福建巡撫招安，為明朝政府守備沿海，掌控東南海面
- (D) 清兵入關後，先是擁立唐王，不久又投降清朝，最後為清廷所囚，於 1661 年被處斬

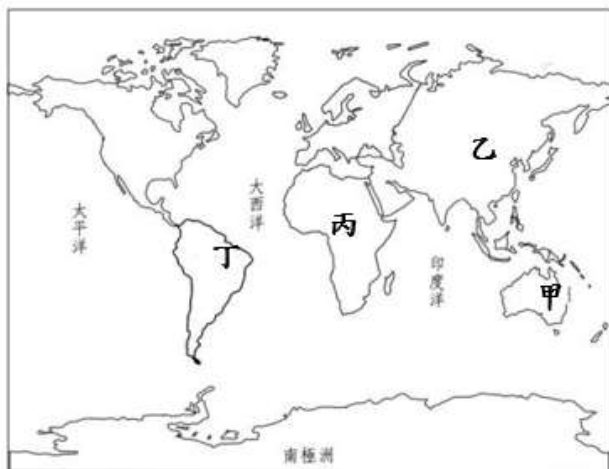
11.考古學者根據石器的製作方法與形式，將石器時代區分為新、舊兩時期，在臺灣所發掘的考古遺址中，何者屬於「新石器時代」類型的文化遺址？

- (A) 臺南 左鎮人
- (B) 臺東 卑南文化
- (C) 苗栗 網形文化
- (D) 臺中 番仔園文化

12. 根據泰雅族 澤敖利群 與 賽夏族 的傳說，這兩族族人的起源皆與哪一座山有關？
- (A) 玉山
 - (B) 大霸尖山
 - (C) 雪山
 - (D) 大武山
13. 臺灣俗諺：「去年五月十三迎城隍，今年五月十三穿軍裝。可惡撫臺走去死，害阮百姓反抗舉白旗。」其內容所描述的是哪一個時代史事？
- (A) 1884 中法戰爭
 - (B) 1895 年 乙未抗日
 - (C) 1915 西來庵事件
 - (D) 1947 年 二二八事件
14. 依據清代的科舉制度，具考試資格的文人士子得赴省城，參加每三年一次的「鄉試」，考上之人即具有哪一種身分？
- (A) 生員（秀才）
 - (B) 進士
 - (C) 貢士
 - (D) 舉人
15. 從何時起，「臺灣」一詞成為官方正式名稱，指稱全島？
- (A) 鄭成功擊退荷蘭人，設立東都，此後即以臺灣稱之
 - (B) 康熙 23 年，清廷將全島收入版圖，設立臺灣府後
 - (C) 光緒 13 年，劉銘傳設省以後，臺灣正式成為全島名稱
 - (D) 原為今臺南一代原住民部落名稱，明末到此捕魚的漢人，便把本島稱作臺灣
16. 1949 年國民政府實施《懲治叛亂條例》以及《肅清匪諜條例》，情治單位往往藉此濫捕民眾，侵害人權，這段政治迫害的歷史被稱作什麼時期？
- (A) 四清運動
 - (B) 清鄉運動
 - (C) 白色恐怖
 - (D) 野百合學運

17. 道光年間，鳳山知縣倡議，引下淡水溪的水源，興建水圳，這條堪稱清代臺灣南部最大的水利工程，是哪一條水圳？
- (A) 八堡圳
 - (B) 大安圳
 - (C) 瑠公圳
 - (D) 曹公圳
18. 創刊自 1885 年，雖然幾經變更名稱，但持續發行至今，可說是臺灣創刊最早、最長壽的刊物。此份報刊的名稱為何？
- (A) 《臺灣民報》
 - (B) 《臺灣青年》
 - (C) 《臺灣府城教會報》
 - (D) 《臺灣日日新報》
19. 咸豐3 年（1853）的「頂下郊拼」，是屬於哪一種類型的械鬥事件？
- (A) 不同姓氏間的械鬥
 - (B) 職業團體之間的械鬥
 - (C) 閩、客之間不同祖籍的械鬥
 - (D) 因為商業利益所引起的械鬥
20. 西元 1911 年梁啟超來臺灣時，曾經親自書寫一首詩送給連雅堂：「明知此是傷心地，亦到維舟首重回；十七年中多少事，春帆樓下晚濤哀。」請問，詩中所指為何事？
- (A) 中華民國建立的艱辛
 - (B) 馬關條約中割讓臺灣
 - (C) 清法戰爭，法軍進攻北臺灣
 - (D) 牡丹社事件，日軍進攻南臺灣

21. 依據平均每人民國所得毛額，地圖中哪一塊區域屬於高收入國家？



- (A) 甲
- (B) 乙
- (C) 丙
- (D) 丁

22. 下列有關人口密度之描述何者正確？

- (A) 通常以「平方公尺/人」為單位。
- (B) 指一平方公里內的平均人口數。
- (C) 計算方式為當地面積除以當地人口總數。
- (D) 人口密度高的地區，其居民大多以農業為主。

23. 下圖為臺灣某地的面積與人口數，請問哪個地方最有可能是都市？

編號	面積(平方公里)	人口數
甲	0.8803	23443
乙	25.8497	103573
丙	27.4045	31763
丁	1037.819	10584

- (A) 甲
- (B) 乙
- (C) 丙
- (D) 丁

- 24.近年來，印度致力於灌溉工程與更精細的耕作技術，推展「綠色革命」，以增加糧食。但改進的過程中，也出現下列哪一種問題？
- (A) 宗教衝突更激烈
 - (B) 引起鄰國關係緊張
 - (C) 糧食產量不斷下降
 - (D) 土壤與水因化肥過度使用而惡化
- 25.下列何者為臺灣夏季時容易發生的災害？
- (A) 地震
 - (B) 土石流
 - (C) 寒害
 - (D) 乾旱
- 26.清朝時，某位來臺文人曾寫下這段文字：「風至，硫氣甚惡。更進半里，草木不生，地熱如炙。左右兩山多巨石，為磺氣所觸，剝蝕如粉。白氣五十餘道，皆從地底騰激而出，沸珠噴濺，出地尺許……」從字面上看，這首詩的景觀最有可能出現在哪裡？
- (A) 大甲
 - (B) 北投
 - (C) 安平
 - (D) 鹿港
- 27.下列何者為國際性組織的縮寫？
- (A) NCC
 - (B) IMF
 - (C) CAS
 - (D) NASA
- 28.每年三月，臺中市大雅區常會舉辦「小麥文化節」活動。從作物來看，下列哪個答案最近似當地的自然環境？
- (A) 全年炎熱多雨
 - (B) 海岸外側的潟湖
 - (C) 冬季雨量較少
 - (D) 終年潮溼多雨

- 29.全球暖化問題與下列哪一種氣體的排放最有關係？
- (A) 氫氣
 - (B) 氮氣
 - (C) 氧氣
 - (D) 二氧化碳
- 30.下列哪一個國家的國體不是「共和制」？
- (A) 日本
 - (B) 美國
 - (C) 義大利
 - (D) 大韓民國
- 31.法務部在 2012 年冬至夜簽下六張死刑執行令，這些殺害他人者依法律執行槍決，卻導致台灣被主張廢除死刑的團體與某國際組織指責為「非法殺人」「冷血殺人」，並違反曾簽署之國際人權公約.....。請問某國際組織可能為下列何者？
- (A) 國際特赦組織 AI
 - (B) 國際綠色和平組織 Greenpeace
 - (C) 國際刑警組織 ICPO
 - (D) 世界衛生組織 WHO
- 32.很多人喜歡用禮券的方式送禮，關於禮券的規定，下列何者的敘述有誤？
- (A) 如果超過其使用期限，這張禮券就要作廢
 - (B) 要註明發行人名稱、地址、統一編號及負責人姓名
 - (C) 要標明禮券面額
 - (D) 可找零
- 33.下列有關多元文化社會的論述，何種的敘述有誤？
- (A) 為了保存民族的獨特性，應杜絕外來文化的入侵
 - (B) 制定法律使各民族皆享有相同的權利和義務
 - (C) 在學校開設原住民語及原住民文化的學習
 - (D) 不同文化所表現出來的內涵都應該受到尊重、保存或發揚

- 34.某報載：這個團體結合了中國與西方藝術的精華，並把當代台灣精神投射到世界各地。請問，以上評論最有可能在說明哪個表演團體？
- (A) 明華園
 - (B) 雲門舞集
 - (C) 相聲瓦舍
 - (D) 霹靂布袋戲
- 35.人類的行為通常都會遵守各種規範，有的規範具有強制力，下列哪一項行為須受強制規範？
- (A) 年節時要祭祖敬天
 - (B) 開車時強制關閉手機
 - (C) 選舉時回戶籍所在地投票
 - (D) 開車時應優先遵守交通號誌，其次才遵守交通警察指揮
- 36.法院係保障人民權利的司法機關，不同國家採不同的審級的制度，下列有關我國司法審查制度的說明何者正確？
- (A) 所有民事訴訟案件都採三級三審制
 - (B) 涉及國家安全的內亂外患罪，應直接向最高法院檢察署提出告發
 - (C) 地方法院設有簡易庭，處理爭訟金額未超過新台幣五百萬元的微罪
 - (D) 最重本刑三年以下有期徒刑之刑案，採言詞辯論主義，並二審終結
- 37.核四問題困擾國人十數載，如今執政當局決定採取公投訴諸民意。下列有關公投之描述何者正確
- (A) 連署人數門檻為千分之五
 - (B) 投票人數達全國投票權人總數二分之一以上，且有效票數超過二分之一以上同意才能通過
 - (C) 提案可併案處理及一案中包含二個事項
 - (D) 應由行政院提案、執行
- 38.大新在學校經常拿小強的性器官開玩笑，讓小強感到非常不舒服，因此小強決定向學校提出申訴。以下關於「校園性騷擾」的處理程序，何者**有誤**？
- (A) 小強除了向學校提出申訴外，也可以對大新提起刑事或民事訴訟
 - (B) 學校為求公平並釐清事實，必要時得安排大新與小強進行當面對質
 - (C) 學校性別平等委員會接獲案件開始的20日內，必須以書面方式向小強答覆是否受理他的申訴案
 - (D) 小強向學務處或訓導處老師提出性騷擾申訴後，3日內相關人員須將案件移交到學校性別平等教育委員會

39. 小文是個職業婦女，下班回家還得照顧一雙年幼的兒女，為了扮演職場女強人和稱職的母親這兩個角色，讓她心力交瘁。請問小文面臨社會學上所稱的什麼現象？
- (A) 角色互換
 - (B) 角色衝突
 - (C) 角色混沌
 - (D) 角色距離
40. 社會運動是一群人民集體抗爭、訴求，近年來台灣最主要社會運動的成因為何？
- (A) 行動不自由
 - (B) 政治不民主
 - (C) 社會不平等
 - (D) 環境改變
41. 婷婷為了讓更多人了解自己的家鄉，因此在臉書上成立「愛我家鄉粉絲專區」，短短3個月內已經有500人加入她的粉絲專區，而這些網友也經常與婷婷進行資訊的交流與討論。請問，這些在網路上的「粉絲專區」、「部落格」，是否可算是一種「社群」(community)？
- (A) 算。只要經常互動，便可算是「社群」
 - (B) 不算。因為網路具有匿名性質，無法得知對方確切的心意與情感
 - (C) 算。因為他們具有相同的規範、價值和期望
 - (D) 不算。因為沒有直接互動，很難建立歸屬感
42. 因應少子化，許多國中小為了行銷自己的學校，吸引學生來就讀，一有大型的活動，便找來地方上有線媒體記者來採訪，這是哪一種權利的行使？
- (A) 集會結社權
 - (B) 言論自由權
 - (C) 媒體近用權
 - (D) 媒體的新聞自由權
43. 曉華下班返家途中遇歹徒搶劫其錢包，情急之下以高跟鞋打傷歹徒，請問曉華的行為是否應承擔法律上的責任？
- (A) 屬緊急避難的阻卻違法行為，但須承擔法律上的責任
 - (B) 屬正當防衛的阻卻違法行為，但須承擔法律上的責任
 - (C) 屬緊急避難的阻卻違法行為，不須承擔法律上的責任
 - (D) 屬正當防衛的阻卻違法行為，不須承擔法律上的責任

44. 有關我國總統職權的運作，下列敘述何者正確？
- (A) 應於國會開會日作國情報告並接受質詢
 - (B) 以黨領政兼任執政黨黨主席
 - (C) 任命多數黨領袖為行政院長
 - (D) 無須國會同意任免行政院長
45. 日本人的父母一向教導他們的子女與人交談時不可正視對方的眼睛，那是不禮貌的行為。然而，美國人卻認為與人交談時必須正視對方，以示尊敬。一個剛到美國留學的日本留學生正因為這個習慣的不同而感到苦惱，就文化理論而言，這是什麼現象？
- (A) 文化同化
 - (B) 文化抗拒
 - (C) 文化失調
 - (D) 文化震撼
46. 當我們面臨「全球化」的浪潮時，應該抱持什麼樣的態度，才能使臺灣本土文化繼續流傳下去？
- (A) 抵制並拒絕使用所有外來文化產品
 - (B) 強化文化的同化功能，建立只屬於台灣的文化體系
 - (C) 了解世界政治文化的發展，並適時將它融入在地生活
 - (D) 強調「我族中心主義」，加強民眾對於台灣文化的認同感
47. 二十歲的小華私自塗改統一發票上的號碼，並前往銀行兌領獎金，但遭銀行人員識破並報警處理，之後他被依偽造文書罪起訴。針對上述小華的行為，下列何者最可能是法院審理後作出的判決？
- (A) 罰鍰六千元
 - (B) 有期徒刑十個月
 - (C) 民事賠償一萬元
 - (D) 假日生活輔導十次

48. 所謂「社會運動」，必須在長時間的堅持下，透過有組織、有計畫的群眾運動，以追求防止社會惡化、解決社會問題的目標。依此定義，下列哪那些可歸類為「社會運動」？

甲、由「無住屋者團結組織」所發起的「夜宿忠孝東路」活動，抗議房價高漲。

乙、民國 93 年發生的「白米炸彈客」事件。

丙、臺中市政府主辦之「臺中爵士音樂節」活動。

丁、為抗議立委草率宣布審查通過「海峽兩岸服務貿易協議」所發起的佔領國會事件。

(A) 甲乙

(B) 甲丁

(C) 乙丙

(D) 乙丁

試題結束